

**Проверочная работа
по МАТЕМАТИКЕ****7 класс****Образец****Инструкция по выполнению работы**

На выполнение работы по математике даётся 90 минут. Работа содержит 16 заданий.

В заданиях, после которых есть поле со словом «Ответ», запишите ответ в указанном месте.

В задании 12 нужно отметить и обозначить точки на числовой прямой. В задании 15 нужно построить схематично график.

В заданиях, после которых есть поле со словами «Решение» и «Ответ», запишите решение и ответ в указанном месте.

Если Вы хотите изменить ответ, зачеркните его и запишите рядом другой.

При выполнении работы нельзя пользоваться учебниками, рабочими тетрадями, справочниками, калькулятором.

При необходимости можно пользоваться черновиком. Записи в черновике проверяться и оцениваться не будут.

Советуем выполнять задания в том порядке, в котором они даны. Для экономии времени пропускайте задание, которое не удаётся выполнить сразу, и переходите к следующему. Постарайтесь выполнить как можно больше заданий.

Желаем успеха!*Таблица для внесения баллов участника*

Номер задания	1	2	3	4	5	6	7	8	9	10	11	12	13	14	15	16	Сумма баллов	Отметка за работу
Баллы																		

- 1 Найдите значение выражения $\frac{5}{6} + \frac{7}{12} : \frac{7}{2}$.

<div style="border: 1px dashed gray; width: 30px; height: 30px; margin: 0 auto;"></div>	Ответ:	<table border="1" style="width: 100%; height: 30px; border-collapse: collapse;"> <tr> <td style="width: 10%;"></td><td style="width: 10%;"></td><td style="width: 10%;"></td><td style="width: 10%;"></td><td style="width: 10%;"></td><td style="width: 10%;"></td><td style="width: 10%;"></td><td style="width: 10%;"></td><td style="width: 10%;"></td><td style="width: 10%;"></td><td style="width: 10%;"></td><td style="width: 10%;"></td><td style="width: 10%;"></td><td style="width: 10%;"></td><td style="width: 10%;"></td><td style="width: 10%;"></td><td style="width: 10%;"></td><td style="width: 10%;"></td><td style="width: 10%;"></td> </tr> </table>																			

- 2 Найдите значение выражения $\frac{2,6 - 8,4}{2,5}$.

<div style="border: 1px dashed gray; width: 30px; height: 30px; margin: 0 auto;"></div>	Ответ:	<table border="1" style="width: 100%; height: 30px; border-collapse: collapse;"> <tr> <td style="width: 10%;"></td><td style="width: 10%;"></td><td style="width: 10%;"></td><td style="width: 10%;"></td><td style="width: 10%;"></td><td style="width: 10%;"></td><td style="width: 10%;"></td><td style="width: 10%;"></td><td style="width: 10%;"></td><td style="width: 10%;"></td><td style="width: 10%;"></td><td style="width: 10%;"></td><td style="width: 10%;"></td><td style="width: 10%;"></td><td style="width: 10%;"></td><td style="width: 10%;"></td><td style="width: 10%;"></td><td style="width: 10%;"></td><td style="width: 10%;"></td> </tr> </table>																			

- 3 В таблице показано соответствие размеров женской обуви в России, Европейском союзе, Великобритании и США.

Россия	35	36	37	38	39	40	41
Европейский союз	36	37	38	39	40	41	42
Великобритания	3,5	4	5	6	6,5	7	8
США	5	5,5	6,5	7,5	8	8,5	9,5

Покупательница носит туфли 37-го размера по российской системе. Какого размера туфли ей нужно спросить, если она зашла в обувной магазин во Франции?

<div style="border: 1px dashed gray; width: 30px; height: 30px; margin: 0 auto;"></div>	Ответ:	<table border="1" style="width: 100%; height: 30px; border-collapse: collapse;"> <tr> <td style="width: 10%;"></td><td style="width: 10%;"></td><td style="width: 10%;"></td><td style="width: 10%;"></td><td style="width: 10%;"></td><td style="width: 10%;"></td><td style="width: 10%;"></td><td style="width: 10%;"></td><td style="width: 10%;"></td><td style="width: 10%;"></td><td style="width: 10%;"></td><td style="width: 10%;"></td><td style="width: 10%;"></td><td style="width: 10%;"></td><td style="width: 10%;"></td><td style="width: 10%;"></td><td style="width: 10%;"></td><td style="width: 10%;"></td><td style="width: 10%;"></td> </tr> </table>																			

- 4 Трактор едет по дороге, проезжая 10 метров за каждую секунду. Выразите скорость трактора в километрах в час.

<div style="border: 1px dashed gray; width: 30px; height: 30px; margin: 0 auto;"></div>	Ответ:	<table border="1" style="width: 100%; height: 30px; border-collapse: collapse;"> <tr> <td style="width: 10%;"></td><td style="width: 10%;"></td><td style="width: 10%;"></td><td style="width: 10%;"></td><td style="width: 10%;"></td><td style="width: 10%;"></td><td style="width: 10%;"></td><td style="width: 10%;"></td><td style="width: 10%;"></td><td style="width: 10%;"></td><td style="width: 10%;"></td><td style="width: 10%;"></td><td style="width: 10%;"></td><td style="width: 10%;"></td><td style="width: 10%;"></td><td style="width: 10%;"></td><td style="width: 10%;"></td><td style="width: 10%;"></td><td style="width: 10%;"></td> </tr> </table>																			

- 5 Ежемесячная плата за телефон составляет 280 рублей в месяц. Сколько рублей составит ежемесячная плата за телефон, если она вырастет на 5%?

<div style="border: 1px dashed gray; width: 30px; height: 30px; margin: 0 auto;"></div>	Ответ:	<table border="1" style="width: 100%; height: 30px; border-collapse: collapse;"> <tr> <td style="width: 10%;"></td><td style="width: 10%;"></td><td style="width: 10%;"></td><td style="width: 10%;"></td><td style="width: 10%;"></td><td style="width: 10%;"></td><td style="width: 10%;"></td><td style="width: 10%;"></td><td style="width: 10%;"></td><td style="width: 10%;"></td><td style="width: 10%;"></td><td style="width: 10%;"></td><td style="width: 10%;"></td><td style="width: 10%;"></td><td style="width: 10%;"></td><td style="width: 10%;"></td><td style="width: 10%;"></td><td style="width: 10%;"></td><td style="width: 10%;"></td> </tr> </table>																			

- 6) Катя младше Тани, но старше Даши. Ксюша не младше Даши. Выберите утверждения, которые верны при указанных условиях, и запишите в ответе их номера.
- 1) Таня и Даша одного возраста.
 - 2) Среди названных четырёх девочек нет никого младше Даши.
 - 3) Таня старше Даши.
 - 4) Таня и Катя одного возраста.

<div style="border: 1px dashed black; width: 20px; height: 20px; margin: 0 auto;"></div>	Ответ:	

- 7) На диаграмме показано содержание питательных веществ в овсяном печенье.



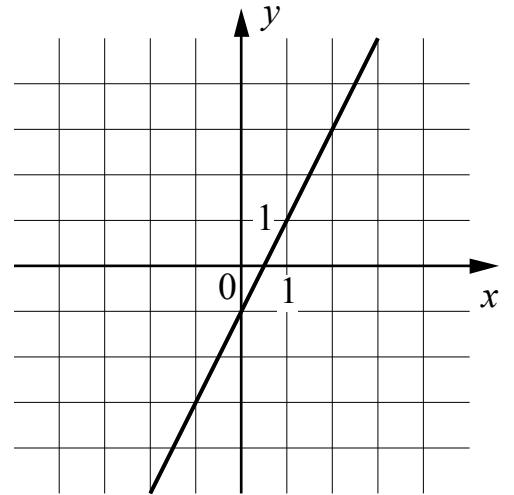
*К прочему относятся вода, витамины и минеральные вещества.

Определите по диаграмме, сколько примерно жиров содержится в 100 г овсяного печенья.

<div style="border: 1px dashed black; width: 20px; height: 20px; margin: 0 auto;"></div>	Ответ:	

8

На рисунке изображён график линейной функции. Напишите формулу, которая задаёт эту линейную функцию.



Ответ:

9

Решите уравнение $2 + 3x = -2x - 13$.

Ответ:

10

Прочтите текст.

Байкал — самое глубокое озеро на планете. Наибольшая глубина Байкала – 1642 метра. Байкал находится в Сибири между Иркутской областью и Республикой Бурятия. Живописные берега озера тянутся на 2000 километров, а площадь водной поверхности составляет 31 722 кв. км. Прибрежные территории отличаются уникальным разнообразием флоры и фауны. Вода в Байкале удивительно прозрачна: видно дно на глубине 40 метров. Запасы пресной воды в Байкале огромны: объём озера – 23 615 куб. км. Байкал является частью огромной экологической системы, охватывающей сотни тысяч квадратных километров. Специалисты считают, что снижение уровня воды в Байкале даже на 10 см приведёт к необратимым катастрофическим последствиям для всей Восточной Сибири. Есть план построить на берегу озера завод, который будет выпускать байкальскую воду в бутылках. Экологи сильно обеспокоены сложившейся ситуацией.

Предположим, что завод будет выпускать 20 миллионов пятилитровых бутылок в год. Будет ли заметно понижение уровня воды в Байкале, вызванное деятельностью завода в течение трёх лет? Ответ обоснуйте.

Решение:

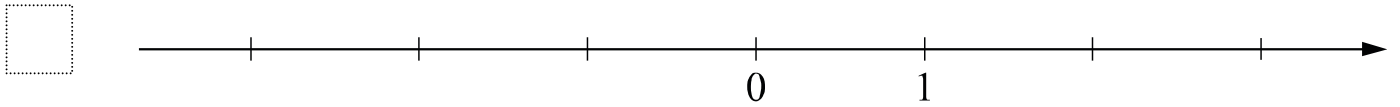
Ответ:

11 Найдите значение выражения $(4 - y)^2 - y(y + 1)$ при $y = -\frac{1}{9}$.

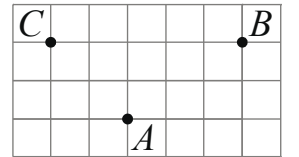
Ответ:	
--------	--

12 Отметьте и подпишите на координатной прямой точки $A(1, 6)$, $B\left(-2\frac{7}{9}\right)$ и $C(-2, 75)$.

Ответ:



13 На клетчатой бумаге с размером клетки 1×1 отмечены три точки: A , B и C . Найдите расстояние от точки A до прямой BC .



Ответ:	
--------	--

14 В треугольнике ABC проведена биссектриса CE . Найдите величину угла BCE , если $\angle BAC = 46^\circ$ и $\angle ABC = 78^\circ$.

Решение:	
----------	--

Ответ:	
--------	--

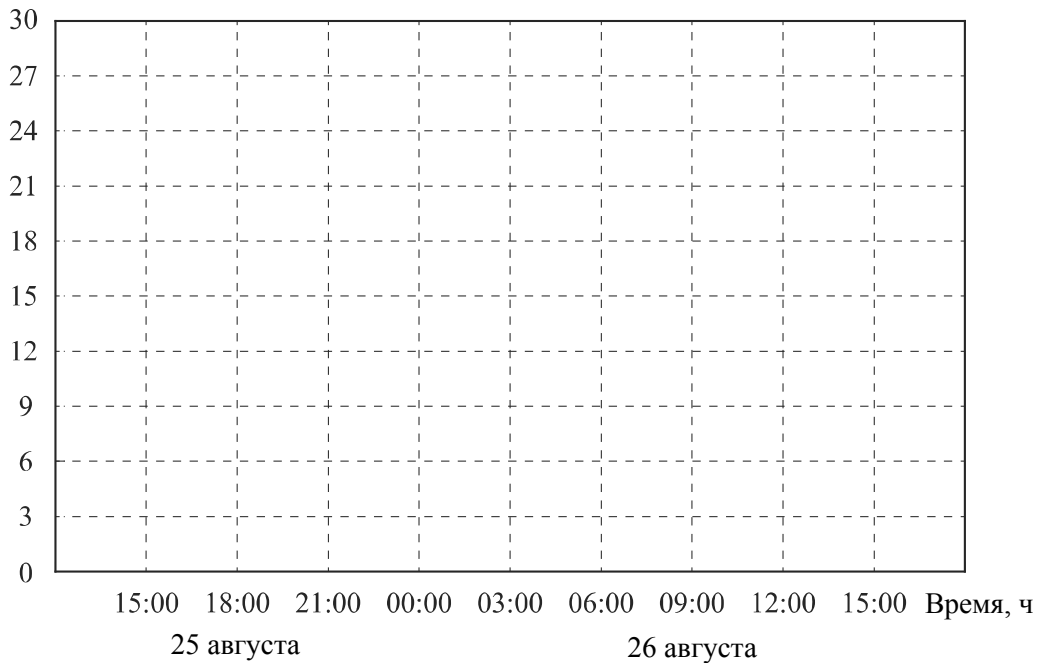
15

Прочтите текст.

К трём часам дня 25 августа воздух прогрелся до +27°C, а затем температура начала быстро снижаться и за три часа опустилась на 9 градусов. Повеяло вечерней прохладой. Температура опускалась всё медленнее, и к девяти часам вечера воздух остыл до 15°. К полуночи неожиданно потеплело на 3 градуса, но ветер снова сменил направление, и к 3 часам ночи температура воздуха опустилась до 12 градусов, а к восходу (в 6 часов утра) похолодало ещё на 3 градуса. Когда рассвело, воздух снова начал прогреваться, но такой жары, как накануне, 26 августа уже не случилось: в полдень было пасмурно, и термометры показывали всего 15°C, а в 15:00 температура оказалась на 6 градусов ниже, чем в это же время накануне.

По описанию постройте схематично график изменения температуры в течение суток с 15:00 25 августа до 15:00 26 августа.

Ответ: Температура, С°



16

Первый участок пути протяженностью 120 км автомобиль проехал со скоростью 80 км/ч, следующие 75 км — со скоростью 50 км/ч, а последние 110 км — со скоростью 55 км/ч. Найдите среднюю скорость автомобиля на протяжении всего пути. Запишите решение и ответ.

Решение:	
Ответ:	

Система оценивания проверочной работы

Оценивание отдельных заданий

Номер задания	1	2	3	4	5	6	7	8	9	10	11	12	13	14	15	16	Итого
Баллы	1	1	1	1	1	1	1	1	1	1	1	2	1	2	1	2	19

Ответы

Номер задания	Правильный ответ
1	1
2	-2,32
3	38
4	36
5	294
6	23
7	любое значение от 12 до 18 г
8	$y = 2x - 1$ или $f(x) = 2x - 1$
9	-3
11	17
13	2
15	<p>Температура, С°</p> <p>15:00 18:00 21:00 00:00 03:00 06:00 09:00 12:00 15:00 Время, ч</p> <p>25 августа 26 августа</p> <p>В качестве верного ответа следует принять любую непрерывную линию, проходящую через все указанные в тексте точки и верно отражающую характер изменения температуры.</p>

Решения и указания к оцениванию ответов на задания 10, 12, 14 и 16

10

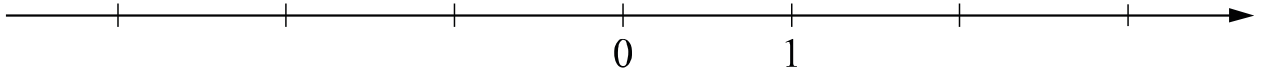
Прочтите текст.

Байкал — самое глубокое озеро на планете. Наибольшая глубина Байкала – 1642 метра. Байкал находится в Сибири между Иркутской областью и Республикой Бурятия. Живописные берега озера тянутся на 2000 километров, а площадь водной поверхности составляет 31 722 кв. км. Прибрежные территории отличаются уникальным разнообразием флоры и фауны. Вода в Байкале удивительно прозрачна: видно дно на глубине 40 метров. Запасы пресной воды в Байкале огромны: объём озера – 23 615 куб. км. Байкал является частью огромной экологической системы, охватывающей сотни тысяч квадратных километров. Специалисты считают, что снижение уровня воды в Байкале даже на 10 см приведёт к необратимым катастрофическим последствиям для всей Восточной Сибири. Есть план построить на берегу озера завод, который будет выпускать байкальскую воду в бутылках. Экологи сильно обеспокоены сложившейся ситуацией.

Предположим, что завод будет выпускать 20 миллионов пятилитровых бутылок в год. Будет ли заметно понижение уровня воды в Байкале, вызванное деятельностью завода в течение трёх лет? Ответ обоснуйте.

Решение и указания к оцениванию	Баллы
<p>Решение. За три года завод заберёт из Байкала: $20\,000\,000 \cdot 5 \cdot 3 = 300\,000\,000$ л, или $300\,000\,000 : 1\,000 = 300\,000$ куб. м воды.</p> <p>Чтобы узнать, на сколько понизится уровень воды в метрах, нужно разделить объём забранной воды на площадь озера, выраженную в кв. м: $300\,000 : 31\,722\,000\,000 = 3 : 317\,220 < 0,00001$ (м).</p> <p>Уровень понизится менее чем на 0,01 мм. Такое снижение уровня воды практически невозможно зафиксировать.</p> <p>Допускается другая последовательность рассуждений, обоснованно приводящая к верному ответу.</p> <p>Ответ: нет.</p>	
Обоснованно получен верный ответ	1
Решение неверно или отсутствует	0
<i>Максимальный балл</i>	1

- 12 Отметьте и подпишите на координатной прямой точки $A(1,6)$, $B\left(-2\frac{7}{9}\right)$ и $C(-2,75)$.



Указания к оцениванию	Баллы
Ответ: 	
Все точки расположены в своих промежутках с целыми концами, учтено положение каждой точки относительно середины отрезка, точка B изображена левее точки C	2
Точки расположены в правильном порядке, каждая в своем целом промежутке, но положение точки относительно середины отрезка неверное хотя бы у одной точки	1
Хотя бы одна из точек не попала в нужный промежуток с целыми концами, либо нарушен порядок точек B и C	0
<i>Максимальный балл</i>	2

- 14 В треугольнике ABC проведена биссектриса CE . Найдите величину угла BCE , если $\angle BAC = 46^\circ$ и $\angle ABC = 78^\circ$.

Указания к оцениванию	Баллы
Решение. Сначала найдём угол ACB : $\angle ACB = 180^\circ - 46^\circ - 78^\circ = 56^\circ$. Поскольку CE биссектриса, $\angle BCE = 56^\circ : 2 = 28^\circ$. 	
Допускается другая последовательность действий и рассуждений, обоснованно приводящая к верному ответу.	
Ответ: 28° .	
Ход решения задачи верный, получен верный ответ	2
Ход решения правильный, все его шаги присутствуют, но допущена ошибка или описка вычислительного характера	1
Другие случаи, не соответствующие указанным критериям	0
<i>Максимальный балл</i>	2

16

Первый участок пути протяженностью 120 км автомобиль проехал со скоростью 80 км/ч, следующие 75 км — со скоростью 50 км/ч, а последние 110 км — со скоростью 55 км/ч. Найдите среднюю скорость автомобиля на протяжении всего пути. Запишите решение и ответ.

Указания к оцениванию	Баллы
Решение. Всего автомобиль проехал: $120 + 75 + 110 = 305$ (км), затратив на весь путь $\frac{120}{80} + \frac{75}{50} + \frac{110}{55} = 5 \text{ (ч).}$ Таким образом, средняя скорость: $\frac{305}{5} = 61$ (км/ч). Допускается другая последовательность действий и рассуждений, обоснованно приводящая к верному ответу. Ответ: 61 км/ч.	
Ход решения задачи верный, получен верный ответ	2
Ход решения верный, все его шаги присутствуют, но допущена ошибка или описка вычислительного характера	1
Другие случаи, не соответствующие указанным критериям	0
<i>Максимальный балл</i>	2

Система оценивания выполнения всей работы

Максимальный первичный балл за выполнение работы – 19.

Рекомендуемая таблица перевода баллов в отметки по пятибалльной шкале

Отметка по пятибалльной шкале	«2»	«3»	«4»	«5»
Первичные баллы	0–6	7–11	12–15	16–19

Всероссийские проверочные работы
2022 год

Описание
контрольных измерительных материалов
для проведения в 2022 году проверочной работы
по МАТЕМАТИКЕ

7 класс

Описание контрольных измерительных материалов для проведения в 2022 году проверочной работы по МАТЕМАТИКЕ

7 класс

1. Назначение всероссийской проверочной работы

Всероссийские проверочные работы (ВПР) проводятся в целях осуществления мониторинга результатов перехода на ФГОС и направлены на выявление качества подготовки обучающихся.

Назначение КИМ для проведения проверочной работы по математике — оценить качество общеобразовательной подготовки по математике обучающихся 7 классов в соответствии с требованиями ФГОС. КИМ ВПР позволяют осуществить диагностику достижения предметных и метапредметных результатов обучения, в том числе овладения межпредметными понятиями и способности использования универсальных учебных действий (УУД) в учебной, познавательной и социальной практике. Результаты ВПР в совокупности с имеющейся в общеобразовательной организации информацией, отражающей индивидуальные образовательные траектории обучающихся, могут быть использованы для оценки личностных результатов обучения.

Результаты ВПР могут быть использованы образовательными организациями для совершенствования методики преподавания математики, муниципальными и региональными органами исполнительной власти, осуществляющими государственное управление в сфере образования, для анализа текущего состояния муниципальных и региональных систем образования и формирования программ их развития.

Не предусмотрено использование результатов ВПР для оценки деятельности образовательных организаций, учителей, муниципальных и региональных органов исполнительной власти, осуществляющих государственное управление в сфере образования.

2. Документы, определяющие содержание проверочной работы

Содержание и структура проверочной работы определяются на основе Федерального государственного образовательного стандарта основного общего образования (приказ Минобрнауки России от 17.12.2010 № 1897) с учетом Примерной основной образовательной программы основного общего образования (одобрена решением Федерального учебно-методического объединения по общему образованию (протокол от 08.04.2015 № 1/15 (в редакции протокола № 1/20 от 04.02.2020)) и содержания учебников, включенных в Федеральный перечень на 2021/22 учебный год.

3. Подходы к отбору содержания, разработке структуры проверочной работы

Всероссийские проверочные работы основаны на системно-деятельностном, компетентностном и уровневом подходах.

В рамках ВПР наряду с предметными результатами обучения оцениваются также метапредметные результаты, в том числе уровень сформированности универсальных учебных действий (УУД) и овладения межпредметными понятиями.

Предусмотрена оценка сформированности следующих УУД.

Личностные действия: личностное, профессиональное, жизненное самоопределение.

Регулятивные действия: планирование, контроль и коррекция, саморегуляция.

Общеучебные универсальные учебные действия: поиск и выделение необходимой информации, структурирование знаний, осознанное и произвольное построение речевого высказывания в письменной форме, выбор наиболее эффективных способов решения задач в зависимости от конкретных условий, рефлексия способов и условий действия, контроль и оценка процесса и результатов деятельности, моделирование, преобразование модели.

Логические универсальные действия: анализ объектов в целях выделения признаков; синтез, в том числе выведение следствий; установление причинно-следственных связей; построение логической цепи рассуждений; доказательство.

Коммуникативные действия: умение с достаточной полнотой и точностью выражать свои мысли в соответствии с задачами и условиями коммуникации.

Тексты заданий в вариантах ВПР в целом соответствуют формулировкам, принятым в учебниках, включенных в Федеральный перечень учебников, допущенных к использованию при реализации имеющих государственную аккредитацию образовательных программ основного общего образования.

4. Структура проверочной работы

Работа содержит 16 заданий.

В заданиях 1–9, 11 и 13 необходимо записать только ответ.

В задании 12 нужно отметить точки на числовой прямой.

В задании 15 требуется схематично построить график функции.

В заданиях 10, 14, 16 требуется записать решение и ответ.

5. Кодификаторы проверяемых элементов содержания и требований к уровню подготовки обучающихся

В табл. 1 приведён кодификатор проверяемых элементов содержания.

Таблица 1

Код	Проверяемые элементы содержания
1	Числа и вычисления
2	Алгебраические выражения
3	Уравнения
4	Функции
5	Координаты на прямой
6	Геометрия
7	Текстовые задачи
8	Статистика и теория вероятностей
9	Измерения и вычисления

В табл. 2 приведён кодификатор проверяемых результатов обучения.

Таблица 2

Код	Проверяемые результаты обучения
1	Выполнять вычисления и преобразования выражений, в том числе используя приёмы рациональных вычислений
2	Выполнять тождественные преобразования алгебраических выражений
3	Решать линейные уравнения, системы линейных уравнений
4	Решать задачи разных типов на производительность, покупки, движение
5	Оперировать понятиями «функция», «график функции», «способы задания функции», уметь строить график линейной функции
6	Оперировать свойствами геометрических фигур, применять геометрические факты для решения задач
7	Извлекать информацию, представленную в таблицах, на диаграммах, графиках
8	Иллюстрировать с помощью графика реальную зависимость или процесс по их характеристикам, строить диаграммы и графики на основе данных
9	Решать несложные логические задачи методом рассуждений
10	Моделировать реальные ситуации на языке алгебры и геометрии

6. Распределение заданий проверочной работы по позициям кодификаторов

Распределение заданий по позициям кодификаторов приведено в табл. 3.

Таблица 3

№	Умения, виды деятельности (в соответствии с ФГОС)	Блоки ПООП ООО: выпускник научится / <i>получит</i> <i>возможность научиться</i>	Уровень сложности	Код КЭС	Код КТ	Максимальный балл за выполнение задания	Примерное время выполнения задания обучающимся (в минутах)
1	Развитие представлений о числе и числовых системах от натуральных до действительных чисел	Оперировать на базовом уровне понятиями «обыкновенная дробь», «смешанное число»	Б	1	1	1	3

2	Развитие представлений о числе и числовых системах от натуральных до действительных чисел	Оперировать на базовом уровне понятием «десятичная дробь»	Б	1	1	1	3
3	Умение извлекать информацию, представленную в таблицах, на диаграммах, графиках	Читать информацию, представленную в виде таблицы, диаграммы, графика / <i>извлекать, интерпретировать информацию, представленную в таблицах и на диаграммах, отражающую свойства и характеристики реальных процессов и явлений</i>	Б	8	7	1	2
4	Умение применять изученные понятия, результаты, методы для решения задач практического характера и задач их смежных дисциплин	<i>Записывать числовые значения реальных величин с использованием разных систем измерения</i>	Б	9	10	1	4
5	Умение применять изученные понятия, результаты, методы для решения задач практического характера и задач их смежных дисциплин	Решать задачи на покупки; находить процент от числа, число по проценту от него, процентное отношение двух чисел, процентное снижение или процентное повышение величины	Б	1	4	1	4
6	Умение анализировать, извлекать необходимую информацию	Решать несложные логические задачи; находить пересечение, объединение, подмножество в простейших ситуациях	Б	7	9	1	5
7	Умение извлекать информацию, представленную в таблицах, на диаграммах, графиках	Читать информацию, представленную в виде таблицы, диаграммы, графика / <i>извлекать, интерпретировать информацию, представленную в таблицах и на диаграммах, отражающую свойства и характеристики реальных процессов и явлений</i>	Б	8	7	1	4
8	Овладение системой функциональных понятий, развитие умения использовать функционально-графические представления	Строить график линейной функции	Б	4	5	1	4
9	Овладение приёмами решения уравнений, систем уравнений	Оперировать на базовом уровне понятиями «уравнение», «корень уравнения»; решать системы несложных линейных уравнений / <i>решать линейные уравнения и уравнения, сводимые к линейным, с помощью тождественных преобразований</i>	Б	3	3	1	3
10	Умение анализировать, извлекать необходимую информацию, пользоваться оценкой и прикидкой при практических расчётах	Оценивать результаты вычислений при решении практических задач / <i>решать задачи на основе рассмотрения реальных ситуаций, в которых не требуется точный вычислительный результат</i>	П	2, 6, 7, 9	10	1	8

11	Овладение символьным языком алгебры	Выполнять несложные преобразования выражений: раскрывать скобки, приводить подобные слагаемые, использовать формулы сокращённого умножения	Б	2	2	1	5
12	Развитие представлений о числе и числовых системах от натуральных до действительных чисел	Сравнивать рациональные числа / <i>знать геометрическую интерпретацию целых, рациональных чисел</i>	Б	1, 5	1	2	6
13	Овладение геометрическим языком, формирование систематических знаний о плоских фигурах и их свойствах, использование геометрических понятий и теорем	Оперировать на базовом уровне понятиями геометрических фигур; извлекать информацию о геометрических фигурах, представленную на чертежах в явном виде; применять для решения задач геометрические факты	Б	6	6	1	2
14	Овладение геометрическим языком, формирование систематических знаний о плоских фигурах и их свойствах, использование геометрических понятий и теорем	Оперировать на базовом уровне понятиями геометрических фигур; извлекать информацию о геометрических фигурах, представленную на чертежах в явном виде / <i>применять геометрические факты для решения задач, в том числе предполагающих несколько шагов решения</i>	П	6	6	2	7
15	Развитие умения использовать функционально-графические представления для описания реальных зависимостей	Представлять данные в виде таблиц, диаграмм, графиков / <i>иллюстрировать с помощью графика реальную зависимость или процесс по их характеристикам</i>	П	4, 9	8	1	12
16	Развитие умений применять изученные понятия, результаты, методы для решения задач практического характера	Решать задачи разных типов (на работу, покупки, движение) / <i>решать простые и сложные задачи разных типов, выбирать соответствующие уравнения или системы уравнений для составления математической модели заданной реальной ситуации или прикладной задачи</i>	П	7	4, 10	2	8
<p>Всего заданий — 16, из них Б — 12, П — 4. Время выполнения проверочной работы — 90 минут. Максимальный первичный балл — 19.</p>							

7. Распределение заданий проверочной работы по уровню сложности

Распределение заданий по уровню сложности приведено в табл. 4.

Таблица 4

№	Уровень сложности	Количество заданий	Максимальный первичный балл	Процент максимального первичного балла за выполнение заданий данного уровня сложности от максимального первичного балла за всю работу
1	Базовый	12	13	68
2	Повышенный	4	6	32
	Итого	16	19	100

8. Типы заданий, сценарии выполнения заданий

В заданиях 1, 2 проверяется владение понятиями «отрицательное число», «обыкновенная дробь», «десятичная дробь» и вычислительными навыками.

В задании 3 проверяется умение извлекать информацию, представленную в таблицах или на графиках.

В задании 4 проверяется владение основными единицами измерения длины, площади, объёма, массы, времени, скорости.

Заданием 5 проверяется умение решать текстовые задачи на проценты.

Задание 6 направлено на проверку умений решать несложные логические задачи, а также находить пересечение, объединение, подмножество в простейших ситуациях.

В задании 7 проверяются умения извлекать информацию, представленную на диаграммах, а также выполнять оценки, прикидки.

В задании 8 проверяется владение понятиями «функция», «график функции», «способы задания функции».

В задании 9 проверяется умение решать линейные уравнения, а также системы линейных уравнений.

Задание 10 направлено на проверку умения извлекать из текста необходимую информацию, делать оценки, прикидки при практических расчётах.

В задании 11 проверяется умение выполнять преобразования буквенных выражений с использованием формул сокращённого умножения.

В задании 12 проверяется умение сравнивать обыкновенные дроби, десятичные дроби и смешанные числа.

Задания 13 и 14 проверяют умение оперировать свойствами геометрических фигур, применять геометрические факты для решения задач.

В задании 15 проверяется умение представлять данные в виде таблиц, диаграмм, графиков.

Задание 16 направлено на проверку умения решать текстовые задачи на производительность, покупки, движение.

9. Система оценивания выполнения отдельных заданий и проверочной работы в целом

Правильное решение каждого из заданий 1–11, 13, 15 оценивается 1 баллом. Задание считается выполненным верно, если ученик дал верный ответ: записал правильное число, правильную величину; изобразил правильный рисунок.

Выполнение каждого из заданий 12, 14, 16 оценивается от 0 до 2 баллов.

Максимальный первичный балл — 19.

Рекомендации по переводу первичных баллов в отметки по пятибалльной шкале

Таблица 5

Отметка по пятибалльной шкале	«2»	«3»	«4»	«5»
Первичные баллы	0–6	7–11	12–15	16–19

10. Время выполнения варианта проверочной работы

На выполнение проверочной работы по математике даётся 90 минут.

11. Описание дополнительных материалов и оборудования, необходимых для проведения проверочной работы

Дополнительные материалы и оборудование не требуются.

12. Рекомендации по подготовке к работе

Специальная подготовка к проверочной работе не требуется.